

I

1. 世界の海洋と大陸に関する次の地図を見て、あとの設問に答えなさい。



(1) 地図中 A～C のそれぞれの海洋の名称について、正しいものを以下より選び、記号で答えなさい。

- (ア) インド洋
- (イ) 大西洋
- (ウ) 太平洋
- (エ) 地中海
- (オ) 北海

(2) 地図中の a～e のそれぞれの大陸の名称について、正しいものを以下より選び、記号で答えなさい。

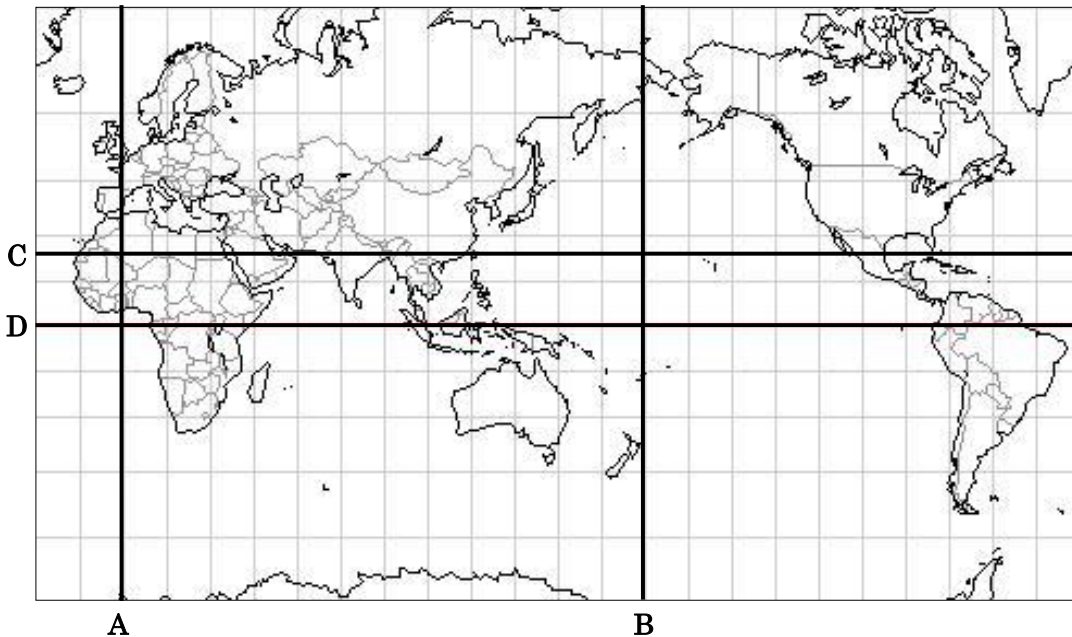
- (ア) ユーラシア大陸
- (イ) アフリカ大陸
- (ウ) 北アメリカ大陸
- (エ) 南アメリカ大陸
- (オ) オーストラリア大陸

(3) 世界最大の面積を持つ国として、正しいものを以下より選び、記号で答えなさい。

- (ア) インド
- (イ) アメリカ合衆国
- (ウ) ブラジル
- (エ) 中国(中華人民共和国)
- (オ) ロシア
- (カ) カナダ

(4) 地図中の斜線で示したエジプトを流れる、世界最長の河川の名称を答えなさい。

2. 経線および緯線を示した次の地図を見て、あとの設問に答えなさい。



(1) 日本の標準時は、兵庫県明石市を通る東経 135 度の経線の時刻である。この時刻は、イギリスのロンドンと何時間の時差があるか。正しいものを以下より選び、記号で答えなさい。

- (ア) 6 時間
- (イ) 9 時間
- (ウ) 12 時間
- (エ) 15 時間

(2) 地図中の太線 A～D のうち、本初子午線として正しいものを選び、記号で答えなさい。

3. あとの設問に答えなさい。

(1) 地球の様子について述べた次の文 A と B の正誤の組合せとして正しいものを以下より選び、記号で答えなさい。


A：北半球が夏のとき、南半球も夏である。

B：地球上には六大陸があり、そのうちの 1 つは南極大陸である。

- (ア) Aー正 Bー正
- (イ) Aー正 Bー誤
- (ウ) Aー誤 Bー正
- (エ) Aー誤 Bー誤

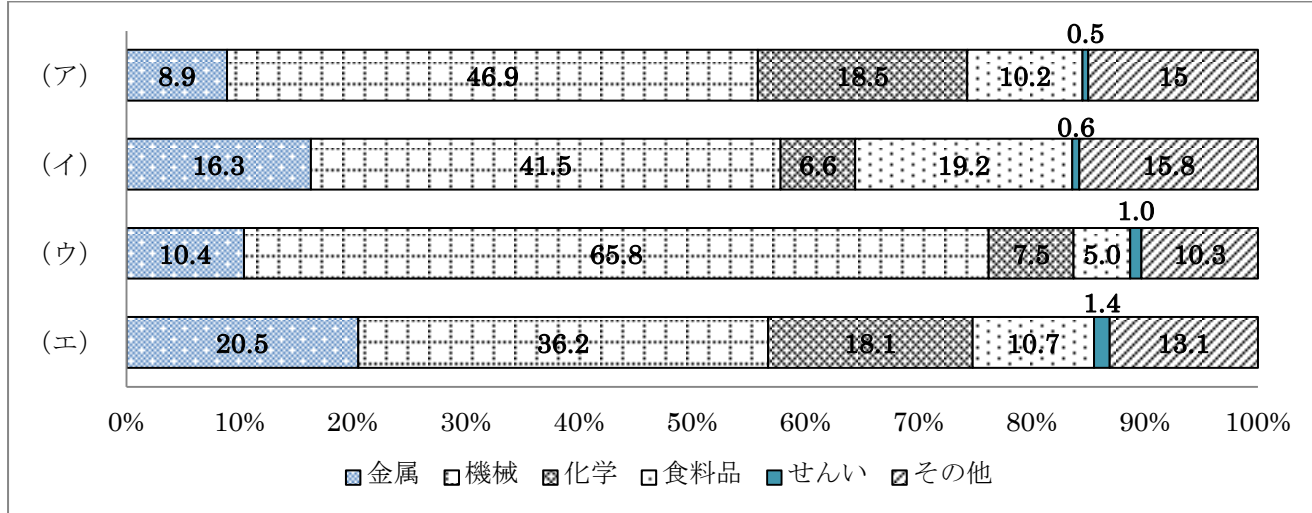
(2) 地形図について述べた次の文 A と B の正誤の組合せとして正しいものを以下より選び、記号で答えなさい。

A：2万5千分の1の地形図では、計曲線は50mごとに記される。

B：地図記号「」は消防署を示している。

- (ア) Aー正 Bー正
- (イ) Aー正 Bー誤
- (ウ) Aー誤 Bー正
- (エ) Aー誤 Bー誤

(3) 次のグラフのうち、北九州工業地帯の工業製品出荷額の割合として正しいものを以下より選び、記号で答えなさい。



四大工業地帯の工業製品出荷額の割合 (2012 日本国勢図会より作成)

(4) 次に示すことがらについて、起きた順に正しく並べられているものを以下より選び、記号で答えなさい。

A：EU (ヨーロッパ連合) 発足

B：EEC (ヨーロッパ経済共同体) 発足

C：単一通貨の名称を「ユーロ」に決定

D：EC (ヨーロッパ共同体) 発足

- (ア) A-C-B-D
- (イ) B-C-D-A
- (ウ) C-D-B-A
- (エ) D-C-A-B
- (オ) A-D-C-B
- (カ) B-D-A-C
- (キ) C-B-A-D
- (ク) D-A-B-C

II

1. 次の(i)~(vii)の文は歴史上の人物に関するものである。文を読み、あとの設問に答えなさい。

(i) 後醍醐天皇は、鎌倉幕府に不満を持つ武士を率い、(a)天皇中心の政治を行ったが、公家を重視する政治に不満を持つ武士の反発により、2年余りで失敗し、吉野に逃れて南朝を立て、北朝と対立した。

(ii) 1549年、ザビエルは鹿児島に上陸し、(b)わが国にキリスト教を伝えた。この人物は、(A)の宣教師として山口や京都などで布教活動を行った。

(iii) この人物は織田信長の後継争いに勝利し、天下統一をすすめた。そして、ものさしやますの大きさを統一し、全国同じ基準で田畑の調査を行い、(c)兵農分離をすすめた。

(iv) 徳川家康は(B)に勝利して全国支配の実権を握り、征夷大將軍に任命されて江戸に幕府をひらいた。

(v) 老中となった松平定信は旗本や御家人の救済のため借金を返済しなくてもよいこととした。さらに武士に朱子学を学ばせ人材育成を行った。しかし、(d)厳しすぎる改革は人々の反感をかった。

(vi) 幕府の大老となったこの人物はアメリカとの間に(C)条約を結び、5港の開港と貿易を認めた。しかし、この条約は日本にとって(e)不平等条約であった。その後この人物は、反対派に対する厳しい処罰に不満を持った浪人に桜田門外で暗殺された。

(vii) この人物は国会の開設を約束した政府によってヨーロッパに派遣され、君主権の強いドイツの憲法を学んだ。大日本帝国憲法の作成後は、初代内閣総理大臣に就任した。

(1) (i)の文中の下線部(a)について、正しいものを以下より選び、記号で答えなさい。

- (ア) 大化の改新
- (イ) 摂関政治
- (ウ) 院政
- (エ) 建武の新政

(2) (ii)について、あとの問いに答えなさい。

① 文章中の下線部(b)について、この背景にあるルターなどによる教会の改革を何というか。

② 文章中の空欄( A )に当てはまる修道会の名称として、正しいものを以下より選び、記号で答えなさい。

- (ア) イエズス会
- (イ) マリア会
- (ウ) サレジオ会
- (エ) ドミニコ会
- (オ) フランシスコ会

(3) (iii)の文中にある、下線部(c)の説明として、正しいものを以下より選び、記号で答えなさい。

- (ア) 農具の発明や改良により、米の収穫量が飛躍的に増加した。
- (イ) 検地によって農民と土地を確実に支配し、刀狩によって一揆を防止するなど、身分制度の基礎を固めた。
- (ウ) 城下町において誰でも自由に商工業ができるようになり、経済発展をすすめた。
- (エ) 大名を、たくみに配置して互いに監視させるなど、大名統制をはかった。

(4) (iv)の文中にある、空欄( B )の名称を答えなさい。

(5) (v)について、あとの問いに答えなさい。

① 文章中の下線部(d)について、改革の名称を答えなさい。

- (ア) 享保の改革
- (イ) 寛政の改革
- (ウ) 天保の改革

② 下線部(d)の改革と同じ時期に起きたヨーロッパのことがらについて、正しいものを以下より選び、記号で答えなさい。

- (ア) ルネサンス
- (イ) 名誉革命
- (ウ) フランス革命
- (エ) アメリカ独立戦争
- (オ) アヘン戦争

(6) (vi)および(vii)の人物の組み合わせとして、正しいものを以下より選び、記号で答えなさい。

- (ア) vi－徳川吉宗 vii－坂本竜馬
- (イ) vi－徳川吉宗 vii－伊藤博文
- (ウ) vi－井伊直弼 vii－岩倉具視
- (エ) vi－井伊直弼 vii－伊藤博文

(7) (vi)について、あとの問いに答えなさい。

① 文中の空欄( C )に適当なものを以下より選び、記号で答えなさい。

- (ア) 日米和親
- (イ) 日英通商航海
- (ウ) 下関
- (エ) 日米修好通商

② 文中の下線部(e)について、条約の内容の組み合わせとして正しいものを以下より選び、記号で答えなさい。

- (ア) 開港地の支配権を認めた－関税自主権がない
- (イ) 開港地の支配権を認めた－外国船に食糧を供給する
- (ウ) 領事裁判権を認めた－関税自主権がない
- (エ) 領事裁判権を認めた－外国船に食糧を供給する

2. 次のA・Bの写真をそれぞれ見て、あとの設問に答えなさい。

【Aの写真】



(1) アメリカ発展の背後で、綿花やタバコを栽培していた南部の大農場(プランテーション)において、強制的に働かされていたのはどのような人々か、正しいものを以下より選び、記号で答えなさい。

- (ア) 黒人奴隷
- (イ) 先住民
- (ウ) 白人労働者

(2) Aの写真は1863年にあったゲティスバーグの演説の様子である。この政治家は誰か、正しいものを以下より選び、記号で答えなさい。

- (ア) ワシントン
- (イ) リンカ(ー)ン
- (ウ) ケネディ

(3) この演説のときに、写真の政治家が語った有名なフレーズに、「のによるのための政治」がある。以下より空欄に共通して当てはまる語句を選び、記号で答えなさい。

- (ア) 君主
- (イ) 人民
- (ウ) 国家

【Bの写真】



- (4) Bの写真は、アメリカで株価が暴落したときの様子を示したものである。これが起きた年について、正しいものを以下より選び、記号で答えなさい。
- (ア) 1929年  
(イ) 1932年  
(ウ) 1945年
- (5) アメリカではそれまでの経済政策を大きく変えて、大統領が選出された。この大統領として正しいものを以下より選び、記号で答えなさい。
- (ア) ウッドロー=ウィルソン  
(イ) フランクリン=ルーズベルト  
(ウ) ビル=クリントン
- (6) アメリカの政府が積極的に公共事業をおこし、恐慌を克服しようとした「新規まきなおし」と呼ばれる改革を何というか。正しいものを以下より選び、記号で答えなさい。
- (ア) ブロック経済  
(イ) ニューディール政策  
(ウ) 5カ年計画

Ⅲ

1. 次の親子の会話を読み、あとの設問に答えなさい。

子：今日、外国人の観光客に英語で道を聞かれたよ。最初はどこに行きたいのかよく分からなかったけれど、携帯電話の地図アプリを使って、行きたい場所が分かったから、答えられたよ。

父：へえ、携帯電話を活用して観光しているんだね。(a)情報化社会もそこまで進んでいるのか。確かに最近、京都で外国人の観光客をよく見るね。日本全体でも外国人の観光客は増えているらしいよ。近所のお土産屋さんも、「今日は一日、日本語を話さなかった」と言っていたほどだから。

子：本当に？外国人の観光客の目的は何だろう？

父：日本には見るものが多いからね。(b)伝統文化や、世界遺産もたくさんあるからね。ちなみに、2014年に京都市内に宿泊した外国人の数は約183万人だったそうだよ。京都市の人口が約147万人だから、すごい数だね。

子：そうなの！何でそんなに多くなったんだろう？

父：最近、日本の円が(c)円安傾向だからじゃないかな。

子：そうなんだ。経済も影響しているんだね。

父：京都は国際都市だから、外国人とかかわる機会も多いね。だから、英語に限らず、外国語を勉強したら、海外に行くときも役に立って、(d)グローバルに活躍できるチャンスも出てくるかもしれないね。

- (1) 下線部(a)について、情報化社会について正しいものを以下より選び、記号で答えなさい。
- (ア) 情報通信技術を活用できる人々と、活用できない人々の間では、特に格差はみられない。  
(イ) 大量の情報を生産し、その流通を重視する社会を情報化社会という。  
(ウ) 個人情報の扱いが非常に厳しくなっており、個人情報が本人の意思とは無関係に利用されることはない。  
(エ) インターネット上に違法にアップロードされた音楽や映像を、違法と知りながらダウンロードすることは問題ない。
- (2) 下線部(b)について、日本の伝統文化にあてはまらないものを以下より選び、記号で答えなさい。
- (ア) 茶道  
(イ) 京劇  
(ウ) 能  
(エ) 狂言  
(オ) 歌舞伎
- (3) 下線部(c)について、以下の問いに答えなさい。
- ① 日本経済は、世界中の国々と貿易活動や投資を行い、個人では旅行やビジネスで海外に行っている。そのため、様々な国の通貨と円を交換する必要が生じる。通貨の交換比率のことを何というか、以下より選び記号で答えなさい。
- (ア) 資本主義  
(イ) 自由貿易  
(ウ) 株式市場  
(エ) 為替相場  
(オ) 変動相場制

② 円高と円安について、下の表の空欄にあてはまる語句の組み合わせとして正しいものを以下より選び、記号で答えなさい。

	円高 1ドル=100円	円安 1ドル=200円
5,000円の商品	50ドル	( A )ドル
海外旅行	日本人の海外旅行が( B )	日本人の海外旅行が減る
貿易	輸出が減る	輸出が( C )

- (ア) A-25 B-減る C-増える  
(イ) A-25 B-増える C-減る  
(ウ) A-25 B-増える C-増える  
(エ) A-20 B-減る C-減る  
(オ) A-20 B-増える C-減る

(4) 下線部(d)に関連して、以下の問いに答えなさい。

- ① グローバル化に関する説明として適切なものを以下より選び、記号で答えなさい。
- (ア) 日本は伝統的な文化を捨て、外国から取り入れた文化によって今日の社会をつくっている。  
(イ) ヨーロッパのEUや東南アジアのASEANのような軍事的なまとまりが活発になっている。  
(ウ) 地球規模で対立し、各国の格差が拡大するような社会をグローバル社会とよんでいる。  
(エ) 21世紀においては、一人一人の地球的課題の解決に努力する「地球市民」としての資質が求められている。

② 下の表は2014年における日本の輸出入上位10カ国を示したものである。表の説明として適切なものを、以下より選び記号で答えなさい。

2014年輸入相手国・地域上位				2014年輸出相手国・地域上位			
	国名	金額(億円)	%		国名	金額(億円)	%
1	中国	191,765	22.3	1	アメリカ	136,493	18.7
2	アメリカ	75,427	8.8	2	中国	133,815	18.3
3	オーストラリア	50,897	5.9	3	韓国	54,559	7.5
4	サウジアラビア	50,153	5.8	4	台湾	42,316	5.8
5	アラブ首長国連邦	43,998	5.1	5	香港	40,393	5.5
6	カタール	35,375	4.1	6	タイ	33,198	4.5
7	韓国	35,313	4.1	7	シンガポール	22,252	3.0
8	マレーシア	30,867	3.6	8	ドイツ	20,179	2.8
9	インドネシア	27,156	3.2	9	インドネシア	15,605	2.1
10	ロシア	26,185	3.0	10	オーストラリア	15,012	2.1
	総額	859,091	66.0	総額	730,930	70.3	

(財務省貿易統計より作成)

- (ア) 輸入相手国・地域の上位10位の中にあるEUの国は1カ国である。  
 (イ) アメリカと中国の輸出総額は全体の3分の1を下回っている。  
 (ウ) 韓国からの輸入額は4兆円を超えている。  
 (エ) 輸入総額よりも輸出総額の方が少ない貿易赤字の状態であった。

## 2. 次の文を読んで、あとの設問に答えなさい。

現代の社会のしくみや動きに関心をもてば、日本や世界には多くの課題があることに気づく。1997年には、(a)我が国で地球温暖化を防止するための国際会議が開かれ、温室効果ガス(二酸化炭素など)排出量削減の数値目標が設定された。地球規模で一体となった社会において、(b)国際紛争、(c)資源・エネルギーや環境などの問題の解決には国家や地域をこえて、協力していくことが大切である。

- (1) 下線部(a)について、この会議が開かれたのは次のどの都市か、正しいものを以下より選び、記号で答えなさい。  
 (ア) 福岡市  
 (イ) 京都市  
 (ウ) 名古屋市  
 (エ) 札幌市  
 (オ) 横浜市
- (2) 下線部(b)に関して、世界の平和と安全を維持することを目的としている、国際連合の安全保障理事会の説明として正しいものを以下より選び、記号で答えなさい。  
 (ア) 常任理事国と非常任理事国で構成され、常任理事国には拒否権が認められている。  
 (イ) 常任理事国は、アメリカ、イギリス、フランス、日本、ロシアの5カ国で構成される。  
 (ウ) 非常任理事国は常任理事国により選出され、任期2年の5カ国で構成される。  
 (エ) 専門機関として、国連平和維持活動を行うユネスコがある。
- (3) 国際連合の本部がある都市として正しいものを以下より選び、記号で答えなさい。  
 (ア) ロンドン  
 (イ) パリ  
 (ウ) ドバイ  
 (エ) ニューヨーク
- (4) 下線部(c)に関して、2011年3月に日本で原子力発電所の事故があったが、その都道府県はどこか、正しいものを以下より選び、記号で答えなさい。  
 (ア) 宮城県  
 (イ) 福島県  
 (ウ) 福井県  
 (エ) 静岡県

## 3. 日本国憲法の条文を読んで、あとの設問に答えなさい。

- 第1条 天皇は、日本国の象徴であり日本国民統合の象徴であって、この地位は、(a)主権の存する日本国民の総意に基く。  
 第6条 天皇は( A )の指名に基いて内閣総理大臣を任命する。天皇は( B )の指名に基いて最高裁判所の長たる裁判官を任命する。  
 第( C )条 国権の発動たる( D )と、武力による威嚇又は武力の行使は、国際紛争を解決する手段としては、永久にこれを放棄する。陸海空軍その他の戦力は、これを保持しない。国の( E )権はこれを認めない。  
 第23条 (b)学問の自由はこれを保障する。  
 第25条 すべて国民は、(c)健康で文化的な最低限度の生活を営む権利を有する。  
 第41条 ( A )は、国権の最高機関であって、国の唯一の立法機関である。  
 第96条 この憲法の改正は、各議員の( F )の賛成で、国会がこれを発議し、国民に提案してその承認を経なければならない。この承認には特別の国民投票又は国会の定める選挙の際行なわれる投票において、その過半数の賛成を必要とする。

- (1) 下線部(a)について、18世紀「社会契約論」で国民主権を唱えたフランスの思想家は誰か。以下より選び、記号で答えなさい。  
 (ア) モンテスキュー  
 (イ) ルソー  
 (ウ) ロック  
 (エ) アダム＝スミス  
 (オ) フランクリン

- (2) 空欄( A )( B )( D )( E )に当てはまる語句の組み合わせとして正しいものを選び、記号で答えなさい。
- (ア) A－戦争 B－内閣 D－国会 E－交戦  
(イ) A－国会 B－内閣 D－交戦 E－戦争  
(ウ) A－国会 B－交戦 D－内閣 E－戦争  
(エ) A－内閣 B－国会 D－戦争 E－交戦  
(オ) A－国会 B－内閣 D－戦争 E－交戦
- (3) 空欄( C )に当てはまる数字を答えなさい。
- (4) 下線部(b)は、自由権のうち何の自由に含まれる権利か、以下より選び、記号で答えなさい。
- (ア) 精神  
(イ) 身体  
(ウ) 職業選択  
(エ) 財産  
(オ) 性別
- (5) 下線部(c)について、日本における社会保障のうち公的扶助に当てはまるものを以下より選び、記号で答えなさい。
- (ア) 病気やケガ、失業、高齢などで、必要が生じたとき給付を受ける。  
(イ) 様々な理由で生活が困難な人に生活費などを支給し、自立を助ける。  
(ウ) 国民が健康に生活できるように生活習慣病の予防や早期発見を目指す。  
(エ) 障害者や高齢者など働くことが困難な人の生活を援助する。
- (6) 空欄( F )について、適当なものを、以下より選び、記号で答えなさい。
- (ア) 総議員の3分の2以上  
(イ) 総議員の過半数  
(ウ) 総議員の3分の1以上  
(エ) 出席議員の3分の2以上  
(オ) 出席議員の過半数

以上