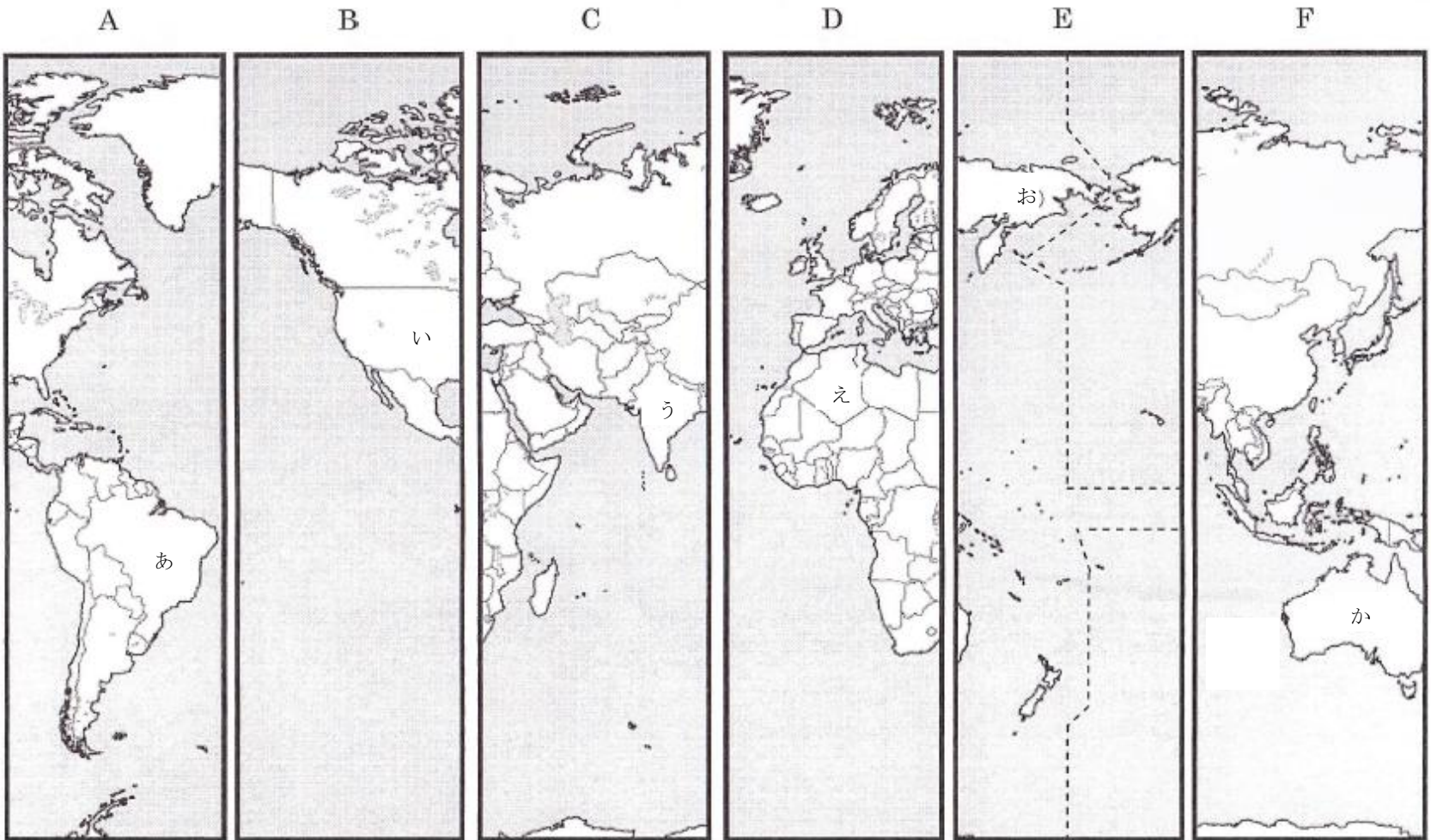


受験番号

(氏名は書かないこと)

I

1 下の地図 A～F (メルカトル図法) は北極と南極を除く世界を南北 6 つに切り取り、並べかえたものである。あとの問に答えなさい。



(1) この地図 (メルカトル図法) の特徴として正しいものを、以下より選んで記号で答えなさい。

- (ア) 地球表面の全ての部分の角度が正しく表されている
- (イ) 中心からの距離と方位が正しく記されている
- (ウ) 地図中の任意の場所で実際の面積との比が正しくなる
- (エ) 北極・南極に近い地方の形のゆがみを少なくしている

(2) 本初子午線が通る国を (あ) ～ (か) から選び、記号で答えなさい。

(3) 地図 E の破線は何を表しているか、以下より選んで記号で答えなさい。

- (ア) 赤道 (イ) 日付変更線 (ウ) 北回帰線 (エ) 南回帰線

(4) 地図中の (あ) と (い) の国が面している海洋の名称を、以下より選んで記号で答えなさい。

- (ア) 地中海 (イ) 太平洋 (ウ) 大西洋 (エ) インド洋

(5) 地図 C の (う) の国に関係するものを、以下より選んで記号で答えなさい。



ア



イ



ウ



エ

(6) 地図中の (お) の国は、日本と北方領土をめぐる対立している国である。

資料 i に示すこの国の大統領を答えなさい (2014 年 1 月現在)。

資料 i


資料 ii

(7) 資料 ii は地図中の (か) の国の北東岸に広がる世界最大の珊瑚礁地帯である。

この珊瑚礁地帯のことを何というか、答えなさい。

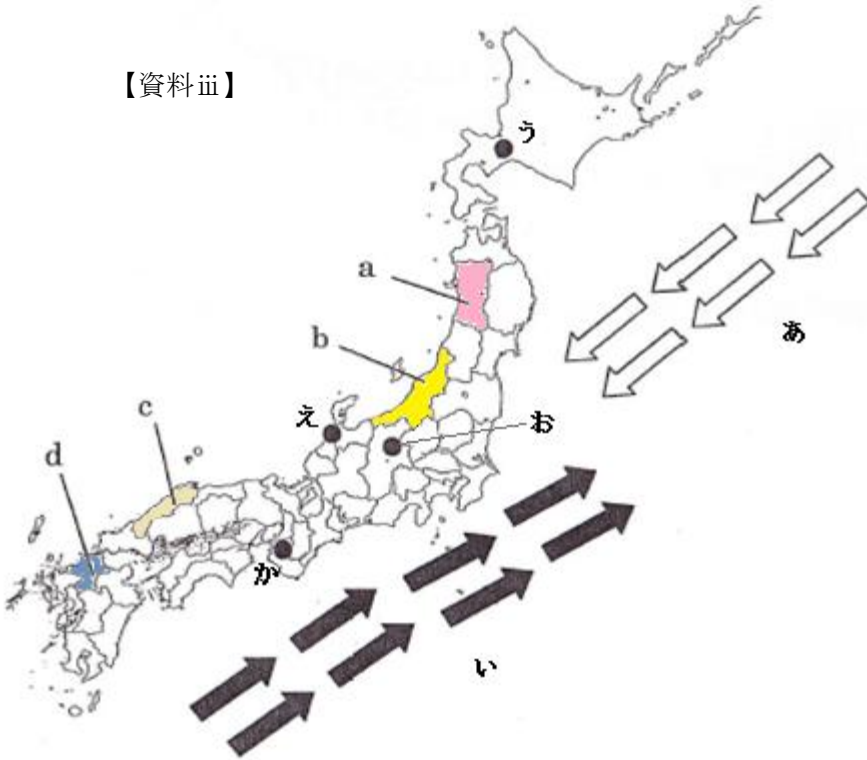
(8) 日本からの直線距離が最も長い国の記号の国名を答えなさい。

(9) 地図 A を基準に地図 B~F を西から順に並べた時、A から数えて 3 番目と 6 番目になる地図をそれぞれ記号で答えなさい。

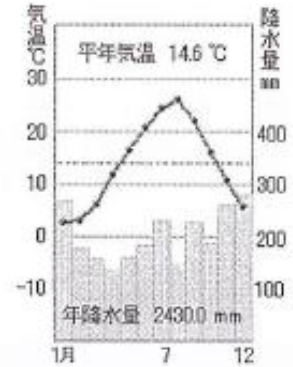


2. 以下の資料 iii ~ v を見て、あとの間に答えなさい。

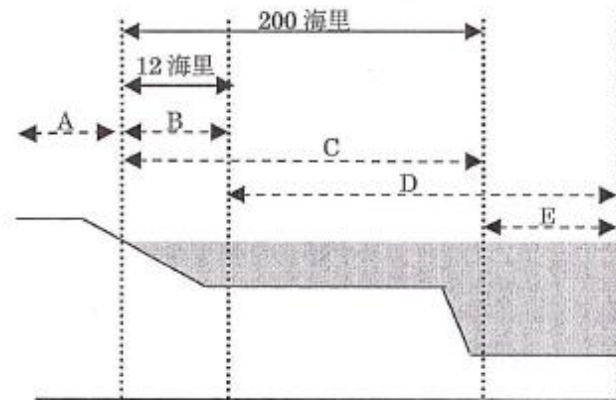
【資料 iii】



【資料 iv】



【資料 v】



(1) 資料 iii の矢印「あ」と「い」の海流の組み合わせとして適当なものを、以下より選んで記号で答えなさい。

	ア	イ	ウ	エ
あ	日本海流	日本海流	千島海流	千島海流
い	千島海流	対馬海流	日本海流	対馬海流

(2) 日本と韓国で領土問題となっている竹島が所属する県は資料 iii の記号 a~d のどの県か、記号で答えなさい。

(3) 資料 iv の雨温図は資料 iii の記号 (う) ~ (か) の都市のうちどれを表しているか、記号で答えなさい。

(4) 資料 v は領土と領土周辺の水域を模式的に表したものである。領海と公海に当てはまるものを A~E より選んで、それぞれ記号で答えなさい。

II


1.以下の略年表と風刺画を見て、問に答えなさい。

【略年表】

年代	できごと	年代	できごと (近代)
645 年	【あ】 a.大化の改新	1858 年	【け】 日米修好通商条約締結
794 年	【い】 b.平安京へ都を移す	1868 年	【こ】 戊辰戦争が起こる
1086 年	【う】 c.院政の開始	1889 年	【さ】 大日本帝国憲法の発布
1192 年	【え】 d.源頼朝が征夷大将軍になる	1895 年	【し】 三国干渉が起こる
1338 年	【お】 足利尊氏が征夷大将軍になる	1910 年	【す】 韓国を併合する
1467 年	【か】 応仁の乱	1931 年	【せ】 満州事変が起こる
1543 年	【き】 e.鉄砲の伝来		【そ】
1603 年	【く】 江戸幕府の成立		

【風刺画】

A



【日露戦争直前の風刺画】

ロシアが焼いている栗をイギリスに押されて日本が取りに行こうとしている。

B



【ノルマントン号事件の風刺画】

イギリス船ノルマントン号が難破した際、日本人乗客は全員死亡した。


C



【成金の風刺画】

第一次世界大戦で好景気となった日本には急に大金持ちになる成金が現れた。

D



【日清戦争の風刺画】

朝鮮に勢力拡大を図る日清の対立を表している。

(1) 年表中の下線部 a について、この出来事に関係のない人物を、以下より選んで記号で答えなさい。

(ア) 藤原道長 (イ) 中大兄皇子 (ウ) 蘇我入鹿 (エ) 中臣鎌足

(2) 年表中の下線部 b について、平安京に都を移した天皇を、以下より選んで記号で答えなさい。

(ア) 天武天皇 (イ) 聖武天皇 (ウ) 推古天皇 (エ) 桓武天皇

(3) 年表中の下線部 c について、院政を開始した上皇を、以下より選んで記号で答えなさい。

(ア) 鳥羽上皇 (イ) 白河上皇 (ウ) 後白河上皇 (エ) 後鳥羽上皇

(4) 年表中の下線部 d について、源頼朝が国ごとに設置した御家人の監督や軍事に関わった役職を答えなさい。

(5) 年表中の下線部 e について、鉄砲伝来の場所を右の地図

より選んで、記号で答えなさい。

(6) 以下の出来事が起こった時期として、適切なものを年表中の【あ】～【く】より選び、記号で答えなさい。

- ① 蒙古襲来
- ② マゼランの世界周航
- ③ 唐の建国



(7) 資料 A について、

- ① 日露戦争開戦前に結ばれた日本とイギリスの国際関係は何と呼ばれるか、答えなさい。
- ② 日露戦争の講和条約を答えなさい。

(8) 資料 B について、

- ① ノルマントン号事件をきっかけに条約改正の世論が高まった。1894 年の条約改正において改正された内容とその時の中心人物の組み合わせとして適切なものを、以下より選んで記号で答えなさい。

(ア) 関税自主権の回復 — 陸奥宗光 (イ) 関税自主権の回復 — 小村寿太郎
(ウ) 領事裁判権の撤廃 — 陸奥宗光 (エ) 領事裁判権の撤廃 — 小村寿太郎

- ② 条約改正において、1871 年から改正の下交渉のために欧米へ出発した使節団の全権は誰か、答えなさい。

(9) 資料 C について、

- ① 第一次世界大戦中に日本が中国に対して突きつけた要求を何というか、答えなさい。
- ② 第一次世界大戦の好景気で力を強め、日本経済の支配を進めた三井や住友などの企業のことを何というか、答えなさい。

(10) 資料 D について、

- ① 日清戦争のきっかけとなった朝鮮南部での農民反乱を何というか、答えなさい。
- ② 日清戦争で日本が勝利し、日本の勢力拡大を恐れたロシアを中心に三国干渉が起こった。三国とはロシアとフランスともう一国はどこか、以下より選んで記号で答えなさい。

(ア) アメリカ (イ) ドイツ (ウ) イギリス (エ) オランダ

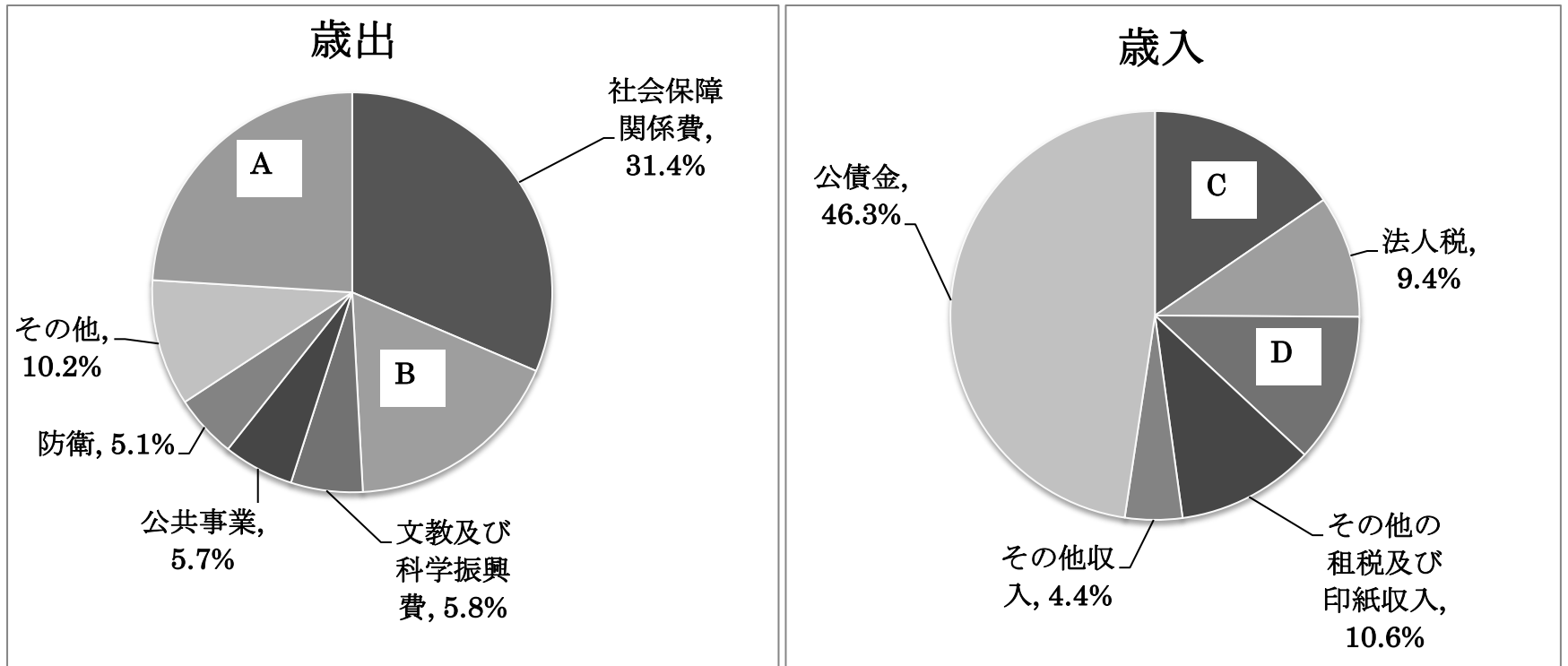
(11) 風刺画 A～D の出来事は年表中のどの時期のものか、記号【け】～【そ】から選んで、記号で答えなさい。

Ⅲ

1 以下の文章を読み、資料を参考にして、あとの問に答えなさい。

日本の財政について一般会計予算の歳出と歳入を見てみると、歳出の3割ほどは a. 社会保障関係費、借金の返済である（ A ）と地方公共団体の財源の格差是正のための（ B ）がそれぞれ5分の1ほど当てられ、その他公共事業や b. 防衛に当てられている。一方、歳入の半分近くが公債金という借金でまかなわれ、個人の所得に対する（ C ）や法人の所得に対する法人税、（ D ）などの c. 税収は4割程度であることがわかる。政府は財源を確保するために、（ D ）の割合を増やしていく政策を考えている。

平成 25 年度一般会計予算



一般会計歳出総額 92 兆 6115 億円

一般会計歳入総額 92 兆 6115 億円

(財務省ホームページより作成)

(1) 文章中とグラフ中の空欄 A と B に入る語句の組み合わせとして適当なものを、以下より選んで記号で答えなさい。

- (ア) A-地方交付税交付金 B-国債費 (イ) A-国債費 B-地方交付税交付金
 (ウ) A-国庫支出金 B-教育 (エ) A-教育 B-国庫支出金

(2) 文章中とグラフ中の空欄 C と D に入る語句の組み合わせとして適当なものを、以下より選んで記号で答えなさい。

- (ア) C-固定資産税 D-たばこ税 (イ) C-固定資産税 D-消費税
 (ウ) C-所得税 D-たばこ税 (エ) C-所得税 D-消費税

(3) 下線部 a について、社会保障のうち、生活に困っている人に対して、生活費や教育費などの必要な援助を行うことを何というか、以下より選んで記号で答えなさい。

- (ア) 社会福祉 (イ) 社会保険 (ウ) 公的扶助 (エ) 公衆衛生

(4) 下線部 b について、日本政府が米軍に与えている経済援助を通称何と呼んでいるか答えなさい。

(5) 下線部 c について、税には直接税と間接税があるが、間接税となるものを以下より選んで記号で答えなさい。

- (ア) 酒税 (イ) 相続税 (ウ) 固定資産税 (エ) 法人税

2. 以下の文章は生徒と先生の会話である。内容に関する以下の間に答えなさい。

生徒：今日の社会の授業で、世界には a. 様々な環境問題があることを知りました。私たちはこれらの問題にどのように関わっていか考えることが大切だと思います。

先生：1997年には地球温暖化を防止するための国際会議が開かれています。会議では b. 先進国と発展途上国の考え方の違いが明らかになり、この問題の解決の難しさが浮き彫りにされました。

生徒：私は平和と軍縮について関心を持っています。とくに太平洋戦争では広島と長崎に原子爆弾が投下されて多くの犠牲者ができました。日本はもっと世界に c. 核兵器の悲惨さを訴えて核兵器の廃絶に積極的に取り組むべきだと思います。

先生：そうですね。みなさんは環境や平和など地球全体について様々な角度で考え、勉強してほしいと思います。問題解決に向けて世界では d. 国際連合が多方面で活躍しています。そして e. 日本も国際社会の中で様々な役割を果たすことが求められています。また、日本国内に目を向け、高齢社会をむかえた今、社会保障のあり方など身近な問題についても関心を持ってほしいですね。

(1) 下線部 a について、

- ①以下の資料はドイツで撮影された森林の写真である。森林が立ち枯れている様子であるが、この原因として適切なものを以下より選んで記号で答えなさい。



(ア) 土壌汚染 (イ) オゾン層の破壊 (ウ) 砂漠化 (エ) 酸性雨

- ②また、地球温暖化について述べた以下の文の空欄にあてはまる語句を漢字4字で答えなさい。

「地球温暖化の原因の1つに、化石燃料の使用による二酸化炭素などの〇〇〇〇ガスの発生がある。」

(2) 下線部 b について、このような先進国と発展途上国の考え方の違いの背景にある経済格差とそこから生まれる様々な問題のことを何問題というか。「東」「西」「南」「北」の語句から2文字を使って答えなさい。

(3) 下線部 c について、

- ①日本は唯一の被爆国として核軍縮の立場から核兵器を「もたず・つくらず・もちこませず」を宣言している。この原則の名称を答えなさい。

- ②日本国憲法では平和主義を唱えているが、第何条でそのことを規定しているか答えなさい。

(4) 下線部 d について、

- ①国際連合の常任理事国でない国を以下より選んで記号で答えなさい。

(ア) アメリカ (イ) ドイツ (ウ) フランス (エ) 中国

- ②国際連合の専門機関ユネスコは世界遺産条約に基づいた活動も行っています。ユネスコに登録された世界遺産と所在する国の組み合わせとして正しいものを以下より選んで記号で答えなさい。

(ア) ピラミッドー中国 (イ) パルテノン神殿ーギリシャ (ウ) 万里の長城ーベトナム (エ) モヘンジョ・ダロの遺跡ーエジプト

- ③2013年、新たな世界遺産として登録された日本の景勝地の名称を答えなさい。

(5) 下線部 e について、日本国憲法第25条において「すべて国民は、健康で文化的な最低限度の生活を営む権利を有する。」と規定されているがこれを何権というか答えなさい。

(6) 日本の国際貢献の一つとして政府開発援助がある。その略称を以下より選んで記号で答えなさい。

(ア) ODA (イ) NGO (ウ) PKO (エ) WHO